

1. Which state of India has the highest percentage of forest area in the total area?
(A) Tripura (B) Nagaland
(C) Mizoram (D) Arunachal Pradesh
2. 'Palk strait' is located between -
(A) India and Indonesia
(B) India and Maldives
(C) India and Sri Lanka
(D) India and Myanmar
3. In which of the following districts of Rajasthan the 'Inceptisols soil' is found?
(A) Jaipur, Dausa and Alwar
(B) Kota, Bundi and Baran
(C) Jaisalmer, Barmer and Bikaner
(D) Pali, Bhilwara and Sirohi
4. In which district Shergarh Wildlife Sanctuary is situated?
(A) Sawai Madhopur (B) Baran
(C) Bundi (D) Karauli
5. 'Isarda Dam Project' is constructed in which districts?
(A) Kota and Baran (B) Jhalawar and Baran
(C) Tonk and Sawai (D) Dungarpur and Madhopur Banswara
6. Which of the following (Political Activist - Related Princely State) is not correctly matched?
(A) Harimohan Mathur - Karauli
(B) Gopilal Yadav - Bharatpur
(C) Mathura Das Mathur - Marwar
(D) Krishna Dutt Paliwal - Dholpur
7. Which among the following (Topography - Location) is not correctly matched?
(A) Bhakar - Eastern Sirohi
(B) Oriya Plateau - Mt. Abu
(C) Lasadia Plateau - Rajsamand
(D) Bhorat Plateau - Between Kumbhalgarh to Gogunda
1. भारत के किस राज्य में कुल क्षेत्रफल में वनों का क्षेत्रफल प्रतिशत सर्वाधिक है?
(A) त्रिपुरा (B) नागालैण्ड
(C) मिजोरम (D) अरुणाचल प्रदेश
2. 'पाक स्ट्रेट' अवस्थित है -
(A) भारत और इण्डोनेशिया के मध्य
(B) भारत और मालदीव के मध्य
(C) भारत और श्रीलंका के मध्य
(D) भारत और म्यानमार के मध्य
3. राजस्थान के निम्नलिखित में से किन जिलों में 'इन्सेप्टीसोल्स मृदा' पायी जाती है?
(A) जयपुर, दौसा और अलवर
(B) कोटा, बूंदी और बारां
(C) जैसलमेर, बाड़मेर और बीकानेर
(D) पाली, भीलवाड़ा और सिरौही
4. शेरगढ़ वन्यजीव अभ्यारण्य किस जिले में स्थित है?
(A) सवाई माधोपुर (B) बारां
(C) बूंदी (D) करौली
5. 'ईसरदा बाँध परियोजना' किन जिलों में निर्मित किया गया है?
(A) कोटा और बारां (B) झालावाड़ और बारां
(C) टोंक और सवाई (D) डूंगरपुर और बांसवाड़ा माधोपुर
6. निम्नलिखित में से कौनसा (राजनीतिक कार्यकर्ता - संबंधित देशी राज्य) सुमेलित नहीं है?
(A) हरिमोहन माथुर - करौली
(B) गोपीलाल यादव - भरतपुर
(C) मथुरा दास माथुर - मारवाड़
(D) कृष्णदत्त पालीवाल - धौलपुर
7. निम्नांकित में से कौनसा (स्थलाकृति - अवस्थिति) सही सुमेलित नहीं है?
(A) भाकर - पूर्वी सिरौही
(B) उड़िया पठार - मा. आबू
(C) लसाड़िया पठार - राजसमन्द
(D) भोरट पठार - कुम्भलगढ़ से गोगुन्दा के मध्य

3. According to Census 2011, the sex ratio in Rajasthan is -
 (A) 6 points lower than the national average.
 (B) 11 points lower than the national average.
 (C) 6 points higher than the national average.
 (D) 15 points lower than the national average.
3. In which year, Rajasthan State Environment Policy was declared?
 (A) 2008 (B) 2010
 (C) 2013 (D) 2018
10. Where did the subsidiary of Adani Hybrid Energy setup India's first wind-solar hybrid power plant?
 (A) Delhi (B) Raipur
 (C) Hyderabad (D) Jaisalmer
11. Which (Mineral – Mining Area) is not a correct match?
 (A) Manganese – Kala-Khunta
 (B) Garnet – Kalaguman
 (C) Iron Ore – Morija-Dabla
 (D) Rock Phosphate – Jhamar-Kotra
12. Who was the political agent of Jaipur during the Revolt of 1857?
 (A) Major Burton (B) William Eden
 (C) Mock Mason (D) Major Morrison
13. Read the following statements carefully -
 (i) In the late 19th century, the Desh Hiteshini Sabha was established in Mewar.
 (ii) Social reform was the core objective of the Sabha.
 Choose the correct code -
 (A) Only statement (i) is true
 (B) Both the statements are true
 (C) Only statement (ii) is true
 (D) Neither (i) nor (ii) is true
14. Which among the following Thikanas imposed 'Chanwari tax'?
 (A) Kuchaman (B) Didwana
 (C) Bhainsrorgarh (D) Bijolia
15. Lodrava is famous for -
 (A) Jains (B) Gurjars
 (C) Sikhs (D) Jats
8. जनगणना 2011 के अनुसार, राजस्थान लिंगानुपात -
 (A) राष्ट्रीय औसत से 6 बिन्दू कम है।
 (B) राष्ट्रीय औसत से 11 बिन्दू कम है।
 (C) राष्ट्रीय औसत से 6 बिन्दू अधिक है।
 (D) राष्ट्रीय औसत से 15 बिन्दू कम है।
9. राजस्थान राज्य पर्यावरण नीति किस वर्ष में घोषित की गई?
 (A) 2008 (B) 2010
 (C) 2013 (D) 2018
10. अडानी हाइब्रिड एनर्जी की सहायक कंपनी ने किस स्थान पर भारत का पहला पवन-सौर हाइब्रिड पावर प्लांट स्थापित किया?
 (A) दिल्ली (B) रायपुर
 (C) हैदराबाद (D) जैसलमेर
11. कौनसा (खनिज – खनन क्षेत्र) सही सुमेलित नहीं है?
 (A) मैंगनीज – काला-खूटा
 (B) तामड़ा – कालागुमान
 (C) लौह अयस्क – मोरीजा-डाबला
 (D) रॉक फॉस्फेट – झामर-कोटड़ा
12. 1857 की क्रांति के दौरान जयपुर के पॉलिटिकल एजेण्ट कौन थे?
 (A) मेजर बर्टन (B) विलियम ईडन
 (C) मॉक मैसन (D) मेजर मॉरीसन
13. अधोलिखित कथनों को सावधानीपूर्वक पढ़िए -
 (i) 19वीं सदी के उत्तरार्द्ध में, मेवाड़ में देश हितेषिणी सभा की स्थापना की गयी।
 (ii) सभा का मुख्य उद्देश्य समाज सुधार था।
 सही कूट चुनिए -
 (A) केवल कथन (i) सत्य है
 (B) दोनों कथन सत्य हैं
 (C) केवल कथन (ii) सत्य है
 (D) न तो (i) ना ही (ii) सत्य है
14. निम्नलिखित ठिकानों में से किसने 'चँवरी कर' लगाया?
 (A) कुचामन (B) डीडवाना
 (C) भैंसरोड़गढ़ (D) बिजौलिया
15. लोद्रवा प्रसिद्ध है -
 (A) जैनियों के लिए (B) गुर्जरों के लिए
 (C) सिक्खों के लिए (D) जाटों के लिए

16. Which of the following (Irrigation Project - District) is not matched correctly?
 (A) Parvan lift - Jaipur
 (B) Savan-Bhado - Kota
 (C) Som-Kamla-Amba - Dungarpur
 (D) Som Kagdar - Udaipur
17. Recently (on 9th April, 2022), who among the following folk music artist of Rajasthan was awarded 'Sangeet Natak Akademy Award'?
 (A) Gazi Khan Barna (B) Mame Khan
 (C) Kheta Khan (D) Dapu Khan
18. 'Mahansar' is famous for -
 (A) Golden work in painting
 (B) Abundance of Mughal paintings
 (C) The Haveli of 360 windows
 (D) Sati Mata Temple
19. How many volumes are there in 'Batan Ri Phulwari'?
 (A) 8 (B) 16
 (C) 10 (D) 14
20. Who is a chairman of 15th Finance Commission of India?
 (A) Dr. Ashok Lahiri (B) Nirmala Sitaraman
 (C) Ajay Narayan (D) N. K. Singh
21. How many districts were included in 'Intensive Agriculture District Programme' in 1960-61?
 (A) 10 Districts (B) 7 Districts
 (C) 8 Districts (D) 9 Districts
22. 'Shivasamudram' waterfall is located on which river?
 (A) Kaveri (B) Sharavati
 (C) Periyar (D) Godawari
23. The Governor of Rajasthan is the ex-officio Chancellor of -
 (A) All the State Universities of Rajasthan.
 (B) All the State and Private Universities as well as Central Universities working in the territory of Rajasthan.
 (C) All the State Universities as well as all the Central Universities working in the territory of Rajasthan.
 (D) All the State as well as Private Universities of Rajasthan.
16. निम्नलिखित में से कौन सा (सिंचाई परियोजना - जिला) सुमेलित नहीं है?
 (A) परवन लिफ्ट - जयपुर
 (B) सावन-भादो - कोटा
 (C) सोम-कमला-अम्बा - डूंगरपुर
 (D) सोम कागदर - उदयपुर
17. हाल ही में (9 अप्रैल, 2022 को) राजस्थान के निम्नलिखित में से किस लोक संगीत कलाकार को 'संगीत नाटक अकादमी पुरस्कार' प्रदान किया गया?
 (A) गाजी खान बरना (B) मामे खान
 (C) खेता खान (D) दापू खान
18. 'महणसर' प्रसिद्ध है -
 (A) सोने की चित्रकारी के लिए
 (B) मुगलकालीन चित्रों की अधिकता के लिए
 (C) 360 खिड़कियों की हवेली के लिए
 (D) सती माता मन्दिर के लिए
19. 'बातां री फुलवारी' कितने खण्डों में विभक्त है?
 (A) 8 (B) 16
 (C) 10 (D) 14
20. 15वें वित्तीय आयोग के अध्यक्ष कौन हैं?
 (A) डॉ. अशोक लाहिड़ी (B) निर्मला सीतारमण
 (C) अजय नारायण (D) एन. के. सिंह
21. सन् 1960-61 में, 'गहन कृषि जिला कार्यक्रम' के अंतर्गत कितने जिलों को समाहित किया गया?
 (A) दस जिले (B) सात जिले
 (C) आठ जिले (D) नौ जिले
22. 'शिवसमुद्रम' जलप्रपात किस नदी पर अवस्थित है?
 (A) कावेरी (B) शरावती
 (C) पेरियार (D) गोदावरी
23. राजस्थान के राज्यपाल पदेन कुलाधिपति होते हैं -
 (A) राजस्थान के समस्त राज्य विश्वविद्यालयों के।
 (B) समस्त राज्य एवं निजी विश्वविद्यालयों के साथ ही राजस्थान के भू-भाग में कार्यरत केन्द्रीय विश्वविद्यालयों के।
 (C) समस्त राज्य विश्वविद्यालयों के साथ ही राजस्थान के भू-भाग में कार्यरत केन्द्रीय विश्वविद्यालयों के।
 (D) राजस्थान के समस्त राज्य के साथ ही निजी विश्वविद्यालयों के।

24. Khus grass is mainly found in Rajasthan in-
- (A) South-Eastern Rajasthan (Hadoti)
 (B) Western Rajasthan
 (C) Abu Mountain region
 (D) Bharatpur and Tonk Forest division

25. Who was the first Protem Speaker of Rajasthan Legislative Assembly?
- (A) Maharao Sangram Singh
 (B) Yashwant Singh Nahar
 (C) Poonam Chand Vishnoi
 (D) Narayan Singh Masuda

26. Which one of the following (Ornament - Human body part) is not matched correctly?
- (A) Tagadi - Waist (B) Ramjhol - Wrist
 (C) Suraliya - Ear (D) Timaniya - Neck

27. The motive of e-SHRAM portal is -
- (A) to do online payment of workers
 (B) to create a National Database of organised workers
 (C) to create a National Database of unorganised workers
 (D) to educate workers

28. India has been divided into 15 Agro-climatic zones by-
- (A) The Water-Resource Ministry
 (B) The Meteorological Department
 (C) The Planning Commission
 (D) The Agricultural Ministry

29. The Dry Land farming is done in India in -
- (A) More than 150 cm annual rainfall areas
 (B) 35 cm to 75 cm annual rainfall areas
 (C) 75 cm to 110 cm annual rainfall areas
 (D) 100 cm to 150 cm annual rainfall areas

30. Match the following -

<u>Kuldevi</u>	<u>Caste</u>
(1) Karni mata	(i) Nai/Nayee
(2) Sakrai mata	(ii) Seervi
(3) Aai mata	(iii) Khandelwal
(4) Narayani mata	(iv) Charan
(A) 1-iv, 2-i, 3-ii, 4-iii	(B) 1-ii, 2-i, 3-iv, 4-iii
(C) 1-iv, 2-iii, 3-i, 4-ii	(D) 1-iv, 2-iii, 3-ii, 4-i

24. खस की घास मुख्य रूप से राजस्थान में पाई जाती है -

- (A) दक्षिण-पूर्वी राजस्थान (हाड़ौती) में
 (B) पश्चिमी राजस्थान में
 (C) आबू पर्वत क्षेत्र में
 (D) भरतपुर और टोंक वन विभाग में

25. राजस्थान विधान सभा के प्रथम प्रोटेम स्पीकर कौन थे?

- (A) महाराव संग्राम सिंह
 (B) यशवंत सिंह नाहर
 (C) पूनम चंद विश्नोई
 (D) नारायण सिंह मसुदा

26. निम्नलिखित में से कौनसा (आभूषण - मानव अंग) सुमेलित नहीं है?

- (A) तगड़ी - कमर (B) रमझोल - कलाई
 (C) सुरलिया - कान (D) तिमणिया - गला

27. ई-श्रम पोर्टल का उद्देश्य है -

- (A) कामगारों को ऑनलाइन भुगतान करना
 (B) संगठित कामगारों का एक राष्ट्रीय डेटाबेस बनाना
 (C) असंगठित कामगारों का एक राष्ट्रीय डेटाबेस बनाना
 (D) कामगारों को शिक्षित करना

28. भारत को 15 कृषि-जलवायु प्रदेशों में विभक्त किया गया है -

- (A) जल-संसाधन मंत्रालय द्वारा
 (B) मौसम विभाग द्वारा
 (C) योजना आयोग द्वारा
 (D) कृषि मंत्रालय द्वारा

29. भारत में शुष्क क्षेत्र कृषि की जाती है -

- (A) 150 से.मी. से अधिक वर्षा क्षेत्रों में
 (B) 35 से.मी. से 75 से.मी. वार्षिक वर्षा क्षेत्रों में
 (C) 75 से.मी. से 110 से.मी. वार्षिक वर्षा क्षेत्रों में
 (D) 100 से.मी. से 150 से.मी. वार्षिक वर्षा क्षेत्रों में

30. सुमेलित कीजिए -

<u>कुलदेवी</u>	<u>जाति</u>
(1) करणी माता	(i) नाई
(2) सकराय माता	(ii) सीरवी
(3) आई माता	(iii) खण्डेलवाल
(4) नारायणी माता	(iv) चारण
(A) 1-iv, 2-i, 3-ii, 4-iii	(B) 1-ii, 2-i, 3-iv, 4-iii
(C) 1-iv, 2-iii, 3-i, 4-ii	(D) 1-iv, 2-iii, 3-ii, 4-i

31. To whom did Kesari Singh Barhath addressed 'Chetavani Ra Chungatiya'?
- (A) Mirza Raja Jaisingh
(B) Maharana Ajit Singh
(C) Maharana Pratap Singh
(D) Maharana Fateh Singh
32. The author of poetry collection, 'Mugtee' is -
- (A) Kirti Sharma (B) Vijay Verma
(C) Meethesh Nirmohi (D) Asha Parashar
33. Pratap Singh Barhath was imprisoned in which of the following conspiracy case?
- (A) Banaras conspiracy case
(B) Lahore conspiracy case
(C) Udaipur conspiracy case
(D) Alipore conspiracy case
34. The one rupee note bears the signature of the-
- (A) Secretary, Ministry of Finance
(B) Finance Minister of Finance
(C) Prime Minister (D) Governor, RBI
35. Which of the following statement is true?
- (i) Jagdeep Dhankhar sworn in as the 14th Vice-President of India on 6th August, 2022 (According to person).
(ii) Jagdeep Dhankhar belongs to Jhunjhunu district and is the second person from Rajasthan to become the Vice-President.
(iii) He has been also a Lok Sabha M. P., a member of the Rajasthan Legislative Assembly and the Governor of West Bengal.
(iv) At present the Speaker of both the House of the Parliament is from Rajasthan.
- (A) i, ii, iii (B) ii, iii
(C) i, ii, iii, iv (D) ii, iii, iv
36. The mosque of Malik Shah is situated in -
- (A) Jalore (B) Jhalawar
(C) Baran (D) Rajsamand
37. Who defeated the combined army of British and Jodhpur state in the Revolt of 1857?
- (A) Jaydayal (B) Rawat Ram Singh
(C) Mehrab Khan (D) Thakur Kushal Singh
31. केसरी सिंह बारहठ ने 'चेतावनी रा चुंगटिया' किस सम्बोधित करके लिखा?
- (A) मिर्जा राजा जयसिंह
(B) महाराणा अजीत सिंह
(C) महाराणा प्रताप सिंह
(D) महाराणा फतेह सिंह
32. 'मुगती' नामक कविता संग्रह के रचयिता हैं -
- (A) कीर्ति शर्मा (B) विजय वर्मा
(C) मीठेश निर्मोही (D) आशां पाराशर
33. निम्नलिखित में से किस षड़यंत्र केस में प्रतापसिंह बारहठ को कारावास दिया गया?
- (A) बनारस षड़यंत्र मुकदमा
(B) लाहौर षड़यंत्र मुकदमा
(C) उदयपुर षड़यंत्र मुकदमा
(D) अलीपुर षड़यंत्र मुकदमा
34. एक रुपये के नोट पर किसके हस्ताक्षर होते हैं?
- (A) सचिव, वित्त मंत्रालय (B) वित्त मंत्री
(C) प्रधानमंत्री (D) गवर्नर, आर. बी. आर.
35. निम्नांकित में से कौन सा कथन सत्य है?
- (i) 6 अगस्त, 2022 को जगदीप धनखड़ ने भारत का 14^{वां} उपराष्ट्रपति के रूप में शपथ ली (व्यक्ति के अनुसार)
(ii) जगदीप धनखड़ का संबंध झुन्झुनू जिले से है तथा राजस्थान से उपराष्ट्रपति बनने वाले दूसरे व्यक्ति हैं।
(iii) यह लोकसभा सांसद, राजस्थान विधानसभा के सदस्य व पश्चिम बंगाल के राज्यपाल भी रहे हैं।
(iv) वर्तमान में संसद के दोनों ही सदन के अध्यक्ष राजस्थान से हैं।
- (A) i, ii, iii (B) ii, iii
(C) i, ii, iii, iv (D) ii, iii, iv
36. मलिक शाह की मस्जिद कहाँ स्थित है?
- (A) जालौर (B) झालावाड़
(C) बारां (D) राजसमंद
37. 1857 की क्रांति में, अंग्रेज एवं जोधपुर राज्य की संयुक्त सेना को किसने पराजित किया?
- (A) जयदयाल ने (B) रावत रामसिंह ने
(C) मेहराब खान ने (D) ठाकुर कुशल सिंह ने

1311065818 1311065818 1311065818 1311065818



38. President's rule was imposed for the maximum number of times during the tenure of which of the following Chief Minister of Rajasthan?

- (A) Mohan Lal Sukhadia
(B) Bhairon Singh Shekhawat
(C) Haridev Joshi
(D) Shiv Charan Mathur

39. Maize is produced largely in which part of Rajasthan?

- (A) South and South East (B) Central
(C) Northern (D) Eastern

40. Match these -

- (1) Ajrakh Print (I) Kaithun
(2) Power loom fabric printing (II) Jodhpur
(3) Mothda (III) Balotara
(4) Masuria (IV) Barmer

Choose the correct option -

- (A) (1) - (IV), (2) - (III), (3) - (II), (4) - (I)
(B) (1) - (I), (2) - (II), (3) - (III), (4) - (IV)
(C) (1) - (II), (2) - (III), (3) - (IV), (4) - (I)
(D) (1) - (III), (2) - (IV), (3) - (I), (4) - (II)

41. Which among the following is the quantitative method of credit control by the Central Bank?

- (A) Direct action (B) Marginal requirements
(C) Bank rate (D) Credit rationing

42. Sridhar Andhare should be given credit for bringing to light the painting style -

- (A) Shahpura (B) Kishangarh
(C) Uniara (D) Devgarh

43. Gandhi Ashram in Hatundi (Ajmer) was established by -

- (A) Arjunlal Sethi (B) Manikya Lal Verma
(C) Haribhau Upadhyaya (D) Jamnalal Bajaj

44. Which of the following Hills is not a part of the 'Satpura Range'?

- (A) Bharner (B) Rajpipla
(C) Maikal (D) Mahadev

38. निम्न में से राजस्थान के किस मुख्यमंत्री के कार्यकाल में सर्वाधिक बार राष्ट्रपति शासन लगाया गया?

- (A) मोहन लाल सुखाड़िया
(B) भैरों सिंह शेखावत
(C) हरीदेव जोशी
(D) शिवचरण माथुर

39. राजस्थान के किस भाग में मक्का का सर्वाधिक उत्पादन होता है?

- (A) दक्षिणी तथा दक्षिणी पूर्वी (B) मध्यवर्ती
(C) उत्तरी (D) पूर्वी

40. सुमेलित कीजिये -

- (1) अजरख प्रिंट (I) कैथून
(2) पावरलूम कपड़ों पर छपाई (II) जोधपुर
(3) मोठड़ा (III) बालोतरा
(4) मसूरिया (IV) बाड़मेर

सही विकल्प चुनें -

- (A) (1) - (IV), (2) - (III), (3) - (II), (4) - (I)
(B) (1) - (I), (2) - (II), (3) - (III), (4) - (IV)
(C) (1) - (II), (2) - (III), (3) - (IV), (4) - (I)
(D) (1) - (III), (2) - (IV), (3) - (I), (4) - (II)

41. केन्द्रीय बैंक द्वारा निम्न में से कौनसी साख नियंत्रण की परिमाणात्मक विधि है?

- (A) प्रत्यक्ष कार्यवाही (B) सीमांत आवश्यकताएं
(C) बैंक दर (D) ऋण राशनिंग

42. श्रीधर अंधारे को किस चित्रशैली को प्रकाश में लाने का श्रेय दिया जाता है?

- (A) शाहपुरा (B) किशनगढ़
(C) उणियारा (D) देवगढ़

43. हटुण्डी (अजमेर) में गांधी आश्रम की स्थापना के द्वारा की गई।

- (A) अर्जुनलाल सेठी (B) माणिक्य लाल वर्मा
(C) हरिभाऊ उपाध्याय (D) जमनालाल बजाज

44. निम्नलिखित पहाड़ियों में से कौन सी 'सतपुड़ा श्रृंखला' का भाग नहीं है?

- (A) भारनेर (B) राजपीपला
(C) मैकाल (D) महादेव

1311065818 1311065818 1311065818 1311065818 1311065818

45. According to 2011 Census, the percentage of scheduled tribe population to total population in Rajasthan is –
 (A) 13.3 (B) 13.5
 (C) 16.9 (D) 14.8
46. Who is winner of women's singles in French Open - 2022?
 (A) Caroline Garcia
 (B) Kristina Mladenovic
 (C) C. Gauff
 (D) Iga Swiatek
47. Which of the following Railway station has been awarded Platinum Green Railway Station rating recently?
 (A) Jodhpur (B) Ajmer
 (C) Mumbai (D) Hyderabad
48. Which is the largest agro – climatic region of Rajasthan?
 (A) Internal drainage dry zone
 (B) Arid western plains
 (C) Sub humid southern plains
 (D) Hyper arid partial irrigated zone
49. Read the statements carefully –
 (I) Tikaram Paliwal is the only Chief Minister who has also been a Deputy Chief Minister in Rajasthan.
 (II) Hari Shankar Bhabhra has been the Deputy Chief Minister of Rajasthan for the longest time till now.
 Which of the following option is correct?
 (A) Only statement I is correct
 (B) Both statements I and II are incorrect
 (C) Only statement II is correct
 (D) Both statements I and II are correct
50. Who wrote the book 'Planned Economy for India'?
 (A) Pt. Jawahar Lal Nehru
 (B) Mahatma Gandhi
 (C) Man Mohan Singh
 (D) M. Visvesvaraya
45. 2011 की जनगणना के अनुसार, राजस्थान की कुल जनसंख्या में अनुसूचित जनजाति की जनसंख्या का प्रतिशत है –
 (A) 13.3 (B) 13.5
 (C) 16.9 (D) 14.8
46. फ्रेंच ओपन-2022 में महिला एकल की विजेता कौन हैं?
 (A) कैरोलिन गार्सिया
 (B) क्रिस्टीना म्लादेनोविक
 (C) सी. गौफ
 (D) इगा स्विआतेक
47. निम्न में से किस रेलवे स्टेशन को हाल ही में प्लेटिनम ग्रीन रेलवे स्टेशन रेटिंग दी गई है?
 (A) जोधपुर (B) अजमेर
 (C) मुंबई (D) हैदराबाद
48. राजस्थान का सबसे बड़ा जलवायु प्रदेश कौनसा है?
 (A) आंतरिक प्रवाह का शुष्क क्षेत्र
 (B) शुष्क पश्चिमी मैदान
 (C) उप आर्द्र दक्षिणी मैदान
 (D) अति शुष्क आंशिक सिंचित क्षेत्र
49. कथनों को ध्यानपूर्वक पढ़िए –
 (I) टीकाराम पालीवाल राजस्थान में एकमात्र ऐसे मुख्यमंत्री हैं, जो उपमुख्यमंत्री भी रहे हैं।
 (II) हरिशंकर भाभड़ा राजस्थान में अब तक सबसे लम्बे समय तक उपमुख्यमंत्री रहे हैं।
 निम्न में से कौनसा विकल्प सही है?
 (A) केवल कथन I सही है
 (B) I व II दोनों कथन गलत हैं
 (C) केवल कथन II सही है
 (D) I व II दोनों कथन सही हैं
50. 'प्लान्ड इकोनॉमी फॉर इंडिया' पुस्तक किसने लिखी?
 (A) पं. जवाहर लाल नेहरू
 (B) महात्मा गांधी
 (C) मनमोहन सिंह
 (D) एम. विश्वेश्वरैया

MYRPS.C.IN



1. The National Mission for Saffron has been launched as a sub - scheme of which among the following programmes?
 (A) Rashtriya Krishi Vikas Yojana
 (B) National Food Security Mission
 (C) National Horticulture Mission
 (D) National Cash Crop Programme
2. What is the maximum amount that the Rajasthan State Information Commission can impose fine for not giving information?
 (A) 30,000 (B) 25,000
 (C) 20,000 (D) 15,000
3. In Rajasthan the quorum to constitute a meeting for the consideration of a no confidence motion against the chairman, Municipal Board shall be.....of the total number of persons entitle to vote thereat.
 (A) One third (1/3) (B) Three fourth (3/4)
 (C) One tenth (1/10) (D) Two third (2/3)
4. Who was the first Chairperson of the State Finance Commission in Rajasthan?
 (A) S. K. Ghosh (B) Heeralal Devpura
 (C) K. K. Goyal (D) M. C. Surana
5. What is the 'Badhar' ?
 (A) A lake of Rajasthan
 (B) Wedding banquet
 (C) An act of funeral
 (D) A tribe of Rajasthan
6. Where was the first cement factory established in Rajasthan?
 (A) Beawar (B) Gotan
 (C) Lakheri (D) Dabok
7. Which one of the following musical instrument is different from the other three?
 (A) Shehnai (B) Khadtal
 (C) Mashak (D) Algoza
8. In which districts of Rajasthan, population density is found to be less than 100 persons per square kilometre (According to Census - 2011)?
 (A) Jaisalmer, Pali and Barmer
 (B) Jaisalmer, Barmer and Bikaner
 (C) Jaisalmer, Barmer and Jodhpur
 (D) Jaisalmer, Pali and Jodhpur
51. राष्ट्रीय केसर मिशन निम्नलिखित में से किसकी उप-योजना के रूप में लांच किया गया?
 (A) राष्ट्रीय कृषि विकास योजना
 (B) राष्ट्रीय खाद्य सुरक्षा मिशन
 (C) राष्ट्रीय बागवानी मिशन
 (D) राष्ट्रीय नकदी फसल प्रोग्राम
52. राजस्थान राज्य सूचना आयोग सूचना नहीं देने पर अधिकतम कितनी राशि का जुर्माना आरोपित कर सकता है?
 (A) 30,000 (B) 25,000
 (C) 20,000 (D) 15,000
53. राजस्थान में नगर पालिका, अध्यक्ष के विरुद्ध अविश्वास के प्रस्ताव पर विचार करने के लिए किसी बैठक के गठन के लिए गणपूर्ति उसमें मतदान के हकदार व्यक्तियों की कुल संख्या की.....होगी।
 (A) एक तिहाई (1/3) (B) तीन चौथाई (3/4)
 (C) दसवाँ भाग (1/10) (D) दो तिहाई (2/3)
54. राजस्थान में राज्य वित्त आयोग के प्रथम अध्यक्ष कौन थे?
 (A) एस. के. घोष (B) हीरालाल देवपुरा
 (C) के. के. गोयल (D) एम. सी. सुराणा
55. 'बढ़ार' क्या है?
 (A) राजस्थान की एक झील
 (B) विवाह पर आयोज्य भोज
 (C) अंत्येष्टि की एक क्रिया
 (D) राजस्थान की एक जनजाति
56. राजस्थान में सीमेंट का प्रथम कारखाना कहाँ स्थापित हुआ था?
 (A) ब्यावर (B) गोतन
 (C) लाखेरी (D) डबोक
57. निम्नलिखित में से कौन सा वाद्य यंत्र बाकी तीन से अलग है?
 (A) शहनाई (B) खड़ताल
 (C) मशक (D) अलगोज़ा
58. राजस्थान में कौन से जिलों में जनसंख्या घनत्व 100 व्यक्ति प्रति वर्ग किलोमीटर से कम पाया जाता है (जनगणना - 2011 के अनुसार)?
 (A) जैसलमेर, पाली और बाड़मेर
 (B) जैसलमेर, बाड़मेर और बीकानेर
 (C) जैसलमेर, बाड़मेर और जोधपुर
 (D) जैसलमेर, पाली और जोधपुर

59. The cloth worn on the waist by the men of Bhil tribe is called -
 (A) Khoyatu (B) Jama
 (C) Polya (D) Kachabu
60. Border Security Force has launched which operation at Rajasthan border in January, 2022?
 (A) Operation Shakti (B) Operation Pawan
 (C) Operation Kranti (D) Operation Sard
 Hawa
61. Highest Ragi producing state of India is -
 (A) Maharashtra (B) Tamil Nadu
 (C) Karnataka (D) Uttarakhand
62. What is the place of Rajasthan in the production of groundnut in India?
 (A) First (B) Fourth
 (C) Third (D) Second
63. In which year was first commemorative stamp on 'Vijay Stambh' of Chittorgarh released?
 (A) 1949 (B) 1956
 (C) 1974 (D) 1986
64. To which sect Govind Dev Temple, Jaipur and Madan Mohan Temple, Karauli are related?
 (A) Vallabh (B) Gaudiya
 (C) Nath (D) Ramsnehi
65. Which of the following is not a proposed beneficiary district of Indira Gandhi Nahar Project (IGNP)?
 (A) Nagaur (B) Sikar
 (C) Pali (D) Jodhpur
66. According to the Census 2011, which district of Rajasthan had the lowest rural sex ratio?
 (A) Jaisalmer (B) Dholpur
 (C) Pali (D) Tonk
67. 'Bithadi Wind Energy Project' is established in which district of Rajasthan?
 (A) Jaisalmer (B) Bikaner
 (C) Jodhpur (D) Chittorgarh
68. 'Mahamandir of Jodhpur' is a place of worship of -
 (A) Dadu sect (B) Bishnoi sect
 (C) Ramsnehi sect (D) Nath sect
59. भील जनजाति के पुरुष कमर पर जो वस्त्र लपेटा करते हैं, उसे क्या कहा जाता है?
 (A) खोयतु (B) जामा
 (C) पोल्या (D) कछाबू
60. सीमा सुरक्षा बल द्वारा जनवरी, 2022 में राजस्थान की सीमा पर कौन सा अभियान चलाया गया?
 (A) ऑपरेशन शक्ति (B) ऑपरेशन पवन
 (C) ऑपरेशन क्रांति (D) ऑपरेशन सर्द हवा
61. भारत में सर्वाधिक रागी उत्पादक राज्य है -
 (A) महाराष्ट्र (B) तमिलनाडु
 (C) कर्नाटक (D) उत्तराखंड
62. मूंगफली के उत्पादन में राजस्थान का भारत में कौनसा स्थान है?
 (A) प्रथम (B) चतुर्थ
 (C) तृतीय (D) द्वितीय
63. चित्तौड़गढ़ स्थित 'विजय स्तम्भ' पर पहला स्मारक डाक टिकट कब जारी किया गया?
 (A) 1949 (B) 1956
 (C) 1974 (D) 1986
64. गोविंद देव मन्दिर, जयपुर एवं मदन मोहन मन्दिर, करौली का सम्बन्ध किस सम्प्रदाय से है?
 (A) वल्लभ (B) गौड़ीय
 (C) नाथ (D) रामस्नेही
65. निम्न में से कौन इंदिरा गांधी नहर परियोजना का प्रस्तावित लाभार्थी जिला नहीं है?
 (A) नागौर (B) सीकर
 (C) पाली (D) जोधपुर
66. 2011 की जनगणना के अनुसार, राजस्थान के किस जिले में न्यूनतम ग्रामीण लिंगानुपात था?
 (A) जैसलमेर (B) धौलपुर
 (C) पाली (D) टोंक
67. 'बीथड़ी पवन ऊर्जा परियोजना' राजस्थान के किस जिले में स्थापित की गई है?
 (A) जैसलमेर (B) बीकानेर
 (C) जोधपुर (D) चित्तौड़गढ़
68. 'जोधपुर का महामन्दिर' उपासना स्थल है -
 (A) दादू संप्रदाय का (B) बिश्नोई संप्रदाय का
 (C) रामस्नेही संप्रदाय का (D) नाथ संप्रदाय का

69. Which scheme has been implemented on the lines of MGNREGA to provide financial support to the families residing in the limits of urban bodies of Rajasthan?
- (A) Indira Gandhi Urban Employment Guarantee Scheme
(B) Deen Dayal Upadhyay Urban Employment Guarantee Scheme
(C) Rajeev Gandhi Urban Employment Guarantee Scheme
(D) Mukhyamantri Shahari Rojgar Yojana
70. Which of the following is related to green revolution in India?
- (A) Calculation of Green GNP
(B) Environment Protection
(C) Green House Effect
(D) High Yielding Variety of Seeds
71. In how many days an appeal can be made to the second appellate authority against the decision of the first appellate authority under the Rajasthan Public Service Guarantee Act, 2011?
- (A) 60 Days (B) 15 Days
(C) 45 Days (D) 30 Days
72. To which order of Sufism, the symbol of communal harmony Qazi Hamiduddin Nagori, belonged?
- (A) Magribi (B) Kadiri
(C) Chisti (D) Suharawardi
73. India's first olive refinery, was set up in Rajasthan at -
- (A) Suratgarh (B) Pachpadra
(C) Amarsagar (D) Lunkaransar
74. When was the Planning Department established in Rajasthan?
- (A) 1956 (B) 1955
(C) 1953 (D) 1954
75. In which year the concept of Multidimensional Poverty Index was introduced?
- (A) 2011 (B) 2010
(C) 2008 (D) 2000
69. मनरेगा की तर्ज पर राजस्थान के शहरी निकायों की सीमा में रहने वाले परिवारों को वित्तीय सहयोग के लिए कौनसी योजना लागू की गई है?
- (A) इंदिरा गाँधी शहरी रोजगार गारन्टी योजना
(B) दीन दयाल उपाध्याय शहरी रोजगार गारन्टी योजना
(C) राजीव गाँधी शहरी रोजगार गारन्टी योजना
(D) मुख्यमंत्री शहरी रोजगार योजना
70. निम्नलिखित में से कौनसा भारत में हरित क्रांति से संबंधित है?
- (A) हरित जी.एन.पी. की गणना
(B) पर्यावरण संरक्षण
(C) हरित गृह प्रभाव
(D) उच्च उत्पादकता किस्मों के बीज
71. राजस्थान लोकसेवा गारंटी अधिनियम, 2011 के अंतर्गत प्रथम अपीलीय प्राधिकारी के निर्णय के विरुद्ध कितने दिनों में द्वितीय अपीलीय प्राधिकारी को अपील की जा सकती है?
- (A) 60 दिन (B) 15 दिन
(C) 45 दिन (D) 30 दिन
72. साम्प्रदायिक सौहार्द के प्रतीक, काजी हमीदुद्दीन नागौरी, किस सूफी सिलसिले के थे?
- (A) मगरिबी (B) कादिरी
(C) चिश्ती (D) सुहरावर्दी
73. भारत की प्रथम जैतून रिफायनरी, राजस्थान में स्थापित की गई थी -
- (A) सूरतगढ़ में (B) पचपद्रा में
(C) अमरसागर में (D) लूणकरणसर में
74. राजस्थान में नियोजन विभाग की स्थापना कब हुई?
- (A) 1956 (B) 1955
(C) 1953 (D) 1954
75. बहुआयामी गरीबी सूचकांक की अवधारणा किस वर्ष शुरू की गई थी?
- (A) 2011 (B) 2010
(C) 2008 (D) 2000

- 1311065818
76. At which place in Rajasthan the Chandrabhaga Cattle Fair is organized in the month of Kartik?
 (A) Sitabari (B) Jhalrapatan
 (C) Keshoraipatan (D) Jhalawar
77. Through which newspaper did Vijay Singh Pathik propagate the Bijolia farmer movement all over India?
 (A) Pratap (B) Tarun Rajasthan
 (C) Naveen Rajasthan (D) Yugantar
78. Where is the 'Bhartiya Lok Kala Mandal Institute' located?
 (A) Jaipur (B) Tonk
 (C) Jodhpur (D) Udaipur
79. Who is the Secretary-General of United Nations at present?
 (A) Kofi Annan (B) Antonio Guterres
 (C) Perez de Cuellar (D) Ban Ki-moon
80. 108th Indian Science Congress scheduled to be held in January 2023 at -
 (A) Bangalore (B) Agartala
 (C) Nagpur (D) Udaipur
81. Which system is currently being adopted in the field of Economic Planning in Rajasthan?
 (A) Centralized Economic System
 (B) Federal Economic System
 (C) Public Economic System
 (D) District Level Economic System
82. Which one of the following (Shifting Cultivation - Area) is not correctly matched?
 (A) Jhum - Assam
 (B) Ponam - Kerala
 (C) Podu - Andhra Pradesh and Odisha
 (D) Kumari - Madhya Pradesh
83. Where was Swami Keshavananda, a famous education saint born?
 (A) Mangloona Village (B) Rampura Berry
 (C) Banasur Village (D) Harnawa Village
76. कार्तिक महीने में चन्द्रभागा पशु मेला राजस्थान में किस स्थान पर आयोजित होता है?
 (A) सीताबाड़ी (B) झालरापाटन
 (C) केशवरायपाटन (D) झालावाड़
77. विजयसिंह पथिक ने किस समाचार पत्र के माध्यम से बिजौलिया किसान आन्दोलन का प्रचार पूरे भारत में कर दिया था?
 (A) प्रताप (B) तरुण राजस्थान
 (C) नवीन राजस्थान (D) युगान्तर
78. 'भारतीय लोक कला मण्डल संस्थान' कहाँ स्थित है?
 (A) जयपुर (B) टोंक
 (C) जोधपुर (D) उदयपुर
79. वर्तमान में संयुक्त राष्ट्र संघ के महासचिव कौन हैं?
 (A) कोफी अन्नान (B) एण्टोनियो गुटेरेस
 (C) पेरेज़ दी कुएलर (D) बान की-मून
80. जनवरी 2023 में 108^{वीं} इंडियन साइंस कांग्रेस आयोजित होगी -
 (A) बैंगलोर में (B) अगरतला में
 (C) नागपुर में (D) उदयपुर में
81. वर्तमान में राजस्थान में आर्थिक नियोजन के क्षेत्र में किस प्रणाली को अपनाया जा रहा है?
 (A) केन्द्रीयकृत आर्थिक प्रणाली
 (B) संघीय आर्थिक प्रणाली
 (C) सार्वजनिक आर्थिक प्रणाली
 (D) जिला स्तरीय आर्थिक प्रणाली
82. निम्नलिखित में से कौन सा (स्थानान्तरी कृषि - क्षेत्र) सुमेलित नहीं है?
 (A) झूम - असम
 (B) पोनम - केरल
 (C) पोडू - आन्ध्र प्रदेश और ओडिशा
 (D) कुमारी - मध्य प्रदेश
83. शिक्षा संत के रूप में, प्रसिद्ध स्वामी केशवानन्द का जन्म कहाँ हुआ?
 (A) मंगलूना गाँव (B) रामपुरा बेरी
 (C) बाणासुर गाँव (D) हरनावा गाँव

84. 'PARAKH', recently seen in news is related to which of the following?
 (A) Education (B) Health
 (C) Banking (D) Industry
85. The 'BHOR' program which is being run with the co-ordination of the Police Commissionerate, Jaipur, is aimed at -
 (A) Rehabilitation of criminals
 (B) De-addiction
 (C) Eradication of child labour
 (D) Rehabilitation of beggars
86. Which one of the following is not correctly matched?
 (A) Vansh Bhaskar - Suryamall Mishan
 (B) Kunalaymala - Uddhyotana Suri
 (C) Prithviraj Vijay - Chand Bardai
 (D) Hammir Mahakavya - Nayanachandra Suri
87. If the meridian that determines the Indian Standard Time - (IST) is given the status of Prime Meridian then what will be longitude of the International Date line?
 (A) 97°30' East (B) 180° East
 (C) 97°30' West (D) 82°30' East
88. The 'NIPUN Bharat Mission' is being implemented by -
 (A) Ministry of Micro, Small and Medium Enterprises
 (B) Ministry of Science & Technology
 (C) Ministry of Education
 (D) Ministry of Labour & Employment
89. The Chairman of State Human Rights Commission is appointed by the Governor on the recommendation of a committee, who among the following is not part of that?
 (A) Chief Minister
 (B) Opposition Leader of Legislative Assembly
 (C) Speaker of Legislative Assembly
 (D) Chief Justice of High Court
90. During the tenure of which Governor General of India, the Hindu Widow Remarriage Act was passed?
 (A) Lord Mayo (B) Lord Canning
 (C) Lord Ellenborough (D) Lord Amherst

84. हाल ही में खबरों में रहा 'परख' निम्नलिखित में से किससे संबंधित है?
 (A) शिक्षा (B) स्वास्थ्य
 (C) बैंकिंग (D) उद्योग
85. 'भोर' (बी.एच.ओ.आर.) कार्यक्रम जो कि पुलिस आयुक्तालय जयपुर के समन्वय से चलाया जा रहा है, का उद्देश्य है -
 (A) अपराधियों का पुनर्वास
 (B) नशामुक्ति
 (C) बाल श्रम का उन्मूलन
 (D) भिक्षुओं का पुनर्वास
86. निम्न में से कौन-सा युग्म सुमेलित नहीं है?
 (A) वंश भास्कर - सूर्यमल्ल मीसण
 (B) कुवलयमाला - उद्योतन सूरी
 (C) पृथ्वीराज विजय - चन्दबरदाई
 (D) हम्मीर महाकाव्य - नयनचन्द्र सूरी
87. यदि भारतीय मानक समय - (IST) को निर्धारित करने वाली देशान्तर रेखा को प्रधान देशान्तर रेखा का दर्जा दिया जाए, तो अन्तर्राष्ट्रीय तिथि रेखा का देशान्तर क्या होगा?
 (A) 97°30' पूर्व (B) 180° पूर्व
 (C) 97°30' पश्चिम (D) 82°30' पूर्व
88. 'निपुण भारत मिशन' कार्यान्वित किया जा रहा है -
 (A) सूक्ष्म, लघु एवं मध्यम उद्यम मंत्रालय द्वारा
 (B) विज्ञान एवं प्रौद्योगिकी मंत्रालय द्वारा
 (C) शिक्षा मंत्रालय द्वारा
 (D) श्रम एवं रोजगार मंत्रालय द्वारा
89. राज्य मानवाधिकार आयोग के अध्यक्ष की नियुक्ति राज्यपाल द्वारा एक समिति की सिफारिश पर की जाती है, जिसमें कौन शामिल नहीं होता है?
 (A) मुख्यमंत्री
 (B) विधानसभा का विपक्ष का नेता
 (C) विधानसभा अध्यक्ष
 (D) उच्च न्यायालय का मुख्य न्यायाधीश
90. भारत के किस गवर्नर जनरल के कार्यकाल के दौरान, हिंदू विधवा पुनर्विवाह अधिनियम पारित किया गया था?
 (A) लॉर्ड मेयो (B) लॉर्ड कैनिंग
 (C) लॉर्ड एलनबरो (D) लॉर्ड एमहर्स्ट

91. The 'Shukra Pond' got constructed by Akbar is situated in which fort?
 (A) Nagaur (B) Sivana
 (C) Shergarh (D) Gagron
92. Who is called the Folk deity (Lok Devta) with four hands?
 (A) Mallinath ji (B) Jhunjhar ji
 (C) Kalla ji (D) Fatta ji
93. 'Falku Bai' is related to which folk dance?
 (A) Kalbelia Dance (B) Chari Dance
 (C) Terahtali Dance (D) Bhawai Dance
94. Bharatpur Rajya Praja Sangh was established in-
 (A) 1928 (B) 1938
 (C) 1937 (D) 1942
95. How much share of the center and the state has been kept for the financial arrangement of the Drought Prone Area Programme (DPAP) operated in Rajasthan?
 (A) 60:40 (B) 50:50
 (C) 90:10 (D) 75:25
96. In which district of Rajasthan, in the latest survey of Geological Survey of India 2021, huge deposits of cement grade limestone have been found?
 (A) Chittorgarh (B) Pali
 (C) Jhalawar (D) Jaisalmer
97. Which ruler of Mewar patronized the painter Sahibdin?
 (A) Maharana Amar Singh (B) Maharana Jagat Singh I
 (C) Maharana Raj Singh (D) Maharana Kumbha Singh
98. In 1818 AD, on behalf of the company, the officer who made Treaty with the Rajput state was -
 (A) James Ferguson (B) Charles Metcalfe
 (C) Charles Hector (D) Mock Mason
99. In which of the following groups of districts in Rajasthan is alluvial soil mainly found?
 (A) Bikaner - Jaisalmer (B) Bharatpur - Dholpur
 (C) Kota - Bundi (D) Banswara - Dungarpur
91. अकबर द्वारा निर्मित 'शुक्र तालाब' किस किले में स्थित है?
 (A) नागौर (B) सिवाना
 (C) शेरगढ़ (D) गागरोन
92. चार हाथों वाला लोकदेवता किसे कहा जाता है?
 (A) मल्लीनाथ जी (B) झुंझार जी
 (C) कल्ला जी (D) फत्ता जी
93. 'फल्कू बाई' का सम्बन्ध किस लोक नृत्य से है?
 (A) कालबेलिया नृत्य (B) चरी नृत्य
 (C) तेरहताली नृत्य (D) भवाई नृत्य
94. भरतपुर राज्य प्रजा संघ की स्थापना हुई -
 (A) 1928 में (B) 1938 में
 (C) 1937 में (D) 1942 में
95. राजस्थान में संचालित सूखा संभाव्य क्षेत्र कार्यक्रम (डी.पी.ए.पी.) की वित्तीय व्यवस्था के लिए केन्द्र एवं राज्य का हिस्सा कितना रखा गया है?
 (A) 60:40 (B) 50:50
 (C) 90:10 (D) 75:25
96. राजस्थान के किस जिले में, जियो लॉजिकल सर्वे ऑफ इण्डिया 2021 के नवीनतम सर्वेक्षण में, सीमेंट ग्रेड लाइमस्टोन के विशाल भण्डार मिले हैं?
 (A) चित्तौड़गढ़ (B) पाली
 (C) झालावाड़ (D) जैसलमेर
97. साहिबदीन नामक चित्रकार को मेवाड़ के किस शासक का संरक्षण प्राप्त था?
 (A) महाराणा अमरसिंह (B) महाराणा जगतसिंह I
 (C) महाराणा राजसिंह (D) महाराणा कुम्भा
98. 1818 ई. में, कम्पनी की ओर से राजपूत राज्यों से संधि करने वाला अधिकारी था -
 (A) जेम्स फर्ग्यूसन (B) चार्ल्स मेटकाफ
 (C) चार्ल्स हेक्टर (D) मॉक मेसन
99. निम्नलिखित में से राजस्थान के किन जिलों के समूह में मुख्यतः कच्ছारी मृदा पाई जाती है?
 (A) बीकानेर - जैसलमेर (B) भरतपुर - धौलपुर
 (C) कोटा - बूंदी (D) बांसवाड़ा - डूंगरपुर

0. 32nd Bihar Puraskar was awarded to Dr. Madhav Hada by K. K. Birla Foundation for which of his literary work?

- (A) Hum Yahan The
(B) Taslima : Sangharsh Aur Sahitya
(C) Aankh Heenyai Ra Hariyal Sapana
(D) Pachrang Chola Pahar Sakhi ri

1. Which one of the following groups contains graphical file extensions?

- (A) TCP, JPG, BMP
(B) GIF, TCE, WMF
(C) JPG, GIF, BMP
(D) JPG, CPX, GCM

2. Which of the following is correct formula in MS-Excel?

- (A) = POWER (2#3) (B) = POWER (2,3)
(C) = POWER (2^3) (D) = POWER (2*3)

3. NTFS stands for and it was developed by

- (A) New Technology File System; Apple
(B) Network Technology File System; Intel
(C) New Technology File System; Microsoft
(D) Network Technology File System; Apple

4. In context of MS-Word – 2019, the key stroke to go to the location of the last change -

- (A) Alt + F6 (B) Ctrl + F7
(C) Shift+ F5 (D) Ctrl + Shift + F8

5. Match column – I and column – II -

Column – I

- (a) Bar codes
(b) OMR
(c) MICR
(d) QR Code
(e) OCR

Column – II

- (1) Objective type tests
(2) Online payments
(3) Departmental store labels
(4) Cheques in banks
(5) Translating printed page to editable text

- (A) (a)-(2), (b)-(4), (c)-(5), (d)-(1), (e)-(3)
(B) (a)-(4), (b)-(1), (c)-(5), (d)-(3), (e)-(2)
(C) (a)-(3), (b)-(1), (c)-(4), (d)-(2), (e)-(5)
(D) (a)-(3), (b)-(1), (c)-(2), (d)-(5), (e)-(4)

100. के. के. बिडला फाउंडेशन द्वारा 32वाँ बिहारी पुरस्कार, डॉ. माधव हाडा को प्रदान किया गया, उनकी किस कृति के लिए?

- (A) हम यहाँ थे
(B) तस्लीमा : संघर्ष और साहित्य
(C) आंख हींयै रा हरियल सपना
(D) पचरंग चोला पहर सखी री

101. निम्नलिखित में से किस समूह में ग्राफिकल फाइल एक्सटेंशन है?

- (A) टी.सी.पी., जे.पी.जी., बी.एम.पी.
(B) जी.आई.एफ., टी.सी.ई., डब्ल्यू.एम.एफ.
(C) जे.पी.जी., जी.आई.एफ., बी.एम.पी.
(D) जे.पी.जी., सी.पी.एक्स., जी.सी.एम.

102. एम.एस.-एक्सेल में निम्न में से कौनसा सही फॉर्मूला है?

- (A) = POWER (2#3) (B) = POWER (2,3)
(C) = POWER (2^3) (D) = POWER (2*3)

103. NTFS का मतलब है और इसे द्वारा विकसित किया गया था।

- (A) न्यू टेक्नोलॉजी फाइल सिस्टम; एप्पल
(B) नेटवर्क टेक्नोलॉजी फाइल सिस्टम; इनटेल
(C) न्यू टेक्नोलॉजी फाइल सिस्टम; माइक्रोसॉफ्ट
(D) नेटवर्क टेक्नोलॉजी फाइल सिस्टम; एप्पल

104. एम.एस.-वर्ड – 2019 के संदर्भ में, अंतिम परिवर्तन के स्थान पर जाने के लिए, की स्ट्रोक है -

- (A) ऑल्ट + F6 (B) कन्ट्रोल + F7
(C) शिफ्ट + F5 (D) कन्ट्रोल + शिफ्ट + F8

105. स्तम्भ- I तथा स्तम्भ- II का मिलान करें -

स्तम्भ- I

- (a) बार कोड्स
(b) ओ.एम.आर.
(c) एम.आई.सी.आर.
(d) क्यू.आर. कोड
(e) ओ.सी.आर.

स्तम्भ- II

- (1) वस्तुनिष्ठ प्रकार की परीक्षाएं
(2) ऑनलाइन पेमेंट्स
(3) डिपार्टमेंटल स्टोर के लेबल
(4) बैंक के चेक
(5) छपे हुए पेज का एडिटेबल टेक्स्ट में रूपान्तरण

- (A) (a)-(2), (b)-(4), (c)-(5), (d)-(1), (e)-(3)
(B) (a)-(4), (b)-(1), (c)-(5), (d)-(3), (e)-(2)
(C) (a)-(3), (b)-(1), (c)-(4), (d)-(2), (e)-(5)
(D) (a)-(3), (b)-(1), (c)-(2), (d)-(5), (e)-(4)

106. Consider the following statements about Li-Fi-
- It uses normal bulbs to transfer data.
 - This technology uses visible spectrum of light.
 - The speed of Li-Fi is slower than Wi-Fi.
 - It is expected to be cheaper than Wi-Fi.

Choose the correct statement -

- (A) (ii) and (iii) (B) (iii) and (iv)
(C) (i) and (ii) (D) (ii) and (iv)

107. Match the chemical substances given in column (I) with their appropriate application given in column (II).

Column (I)

- Bleaching powder
- Baking soda
- Washing soda
- Sodium chloride

Column (II)

- Preparation of glass
- Production of H_2 and Cl_2
- Decolourisation
- Antacid

- (A) a - (iii), b - (ii), c - (iv), d - (i)
(B) a - (i), b - (ii), c - (iii), d - (iv)
(C) a - (iii), b - (iv), c - (i), d - (ii)
(D) a - (ii), b - (i), c - (iv), d - (iii)

108. The is at its largest in children, but with the onset of puberty, it eventually shrinks and gets replaced by fat.

- (A) Thymus (B) Hypothalamus
(C) Pituitary gland (D) Parathyroid gland

109. When an object falls freely towards the earth, then its total energy -

- (A) decrease (B) first increases then decreases
(C) remains constant (D) increases

110. What does 'OTEC' stand for?

- (A) Ocean Thermal Energy Conversion
(B) Oil and Thermal Energy Conservation
(C) Oil and Thermal Evolution Convention
(D) Ocean and Tide Electric Conservation

106. लाई - फाई के बारे में निम्नलिखित कथनों पर विचार करें -

- डेटा ट्रांसफर करने के लिए यह सामान्य बल्ब का उपयोग करता है।
- यह तकनीक प्रकाश के दृश्यमान स्पेक्ट्रम का उपयोग करती है।
- लाई-फाई की गति वाई-फाई की तुलना में धीमी है।
- लाई-फाई, वाई-फाई से सस्ती तकनीकी होगी।

सही वाक्य का चयन कीजिए -

- (A) (ii) और (iii) (B) (iii) और (iv)
(C) (i) और (ii) (D) (ii) और (iv)

107. कॉलम (I) में दिए गए रासायनिक पदार्थों का कॉलम (II) में दिए गए उपयुक्त अनुप्रयोग से मिलान करें।

कॉलम (I)

- ब्लीचिंग पाउडर
- बेकिंग सोडा
- वॉशिंग सोडा
- सोडियम क्लोराइड

कॉलम (II)

- कांच बनाने में
- H_2 और Cl_2 के उत्पादन में
- विरंजनीकरण में
- एंटासिड

- (A) a - (iii), b - (ii), c - (iv), d - (i)
(B) a - (i), b - (ii), c - (iii), d - (iv)
(C) a - (iii), b - (iv), c - (i), d - (ii)
(D) a - (ii), b - (i), c - (iv), d - (iii)

108. बच्चों में सबसे बड़ा होता है, लेकिन यौवन की शुरुआत के साथ, यह अंततः सिकुड़ जाता है और वसा द्वारा प्रतिस्थापित हो जाता है।

- (A) थाइमस (B) हाइपोथैलेमस
(C) पिट्यूटरी ग्रंथि (D) पैराथाइरॉइड ग्रंथि

109. यदि कोई वस्तु स्वतंत्र रूप से पृथ्वी पर गिरती है, तो उसकी कुल ऊर्जा -

- (A) घटती है (B) पहले बढ़ती है, फिर घटती है
(C) स्थिर रहती है (D) बढ़ती है

110. 'OTEC' का अर्थ है -

- (A) ओशन थर्मल एनर्जी कन्वर्शन
(B) ऑइल एण्ड थर्मल एनर्जी कन्जर्वेशन
(C) ऑइल एण्ड थर्मल एवोल्यूशन कन्वेंशन
(D) ओशन एण्ड टाइड इलेक्ट्रिक कन्जर्वेशन

11. The resistance of a parallel circuit consisting of two branches is 12 Ohm. If the resistance of one branch is 18 Ohm, what is the resistance of the other?

- (A) 48 Ohm (B) 36 Ohm
(C) 18 Ohm (D) 64 Ohm

112. Comma - Shaped Bacteria is called as -

- (A) Vibrio (B) Bacilli
(C) Spirillum (D) Cocci

113. Consider the following -

1. Methane
2. Nitrous Oxide
3. Halons

Which of the above is/are responsible for depletion of stratospheric ozone?

- (A) 1 only (B) 3 only
(C) 1, 2 and 3 (D) 1 and 2 only



114. Choose the correct statement related to Biodiversity -

- (A) Biodiversity increases towards the Equator
(B) Biodiversity increases towards higher latitudes
(C) Biodiversity is found equally on earth
(D) High Himalayan regions have the highest biodiversity in the world

115. Choose the right statement / statements about ISRO -

- (1) ISRO built India's first satellite, Aryabhat, which was launched by USA in 1975.
(2) Antrix Corporation is the marketing arm of ISRO.
(3) Master Control Facility of ISRO is situated in Hassan.

- (A) 1, 2, 3 (B) 1, 3
(C) 2, 3 (D) 1, 2

116. Find the wrong number in the given series from the given alternatives -

14, 39, 84, 155, 260

- (A) 84 (B) 260
(C) 155 (D) 39

111. दो शाखाओं वाले समानांतर परिपथ का प्रतिरोध 12 ओम है। यदि एक शाखा का प्रतिरोध 18 ओम है, तो दूसरी शाखा का प्रतिरोध क्या है?

- (A) 48 ओम (B) 36 ओम
(C) 18 ओम (D) 64 ओम

112. अल्पविराम के आकार के जीवाणु कहलाते हैं -

- (A) विब्रियो (B) बेसिलाई
(C) स्पाइरिलम (D) कोकाई

113. निम्न पर विचार करें -

1. मीथेन
2. नाइट्रस ऑक्साइड
3. हेलोनस

निम्न में से कौन समतापमंडलीय ओजोन के ह्रास के लिए उत्तरदायी है/हैं?

- (A) केवल 1 (B) केवल 3
(C) 1, 2 और 3 (D) केवल 1 और 2

114. जैव विविधता से सम्बन्धित सही कथन का चयन करें -

- (A) जैव विविधता भूमध्य रेखा की ओर बढ़ती है
(B) जैव विविधता उच्चतर अक्षांशों की तरफ बढ़ती है
(C) पृथ्वी पर जैव विविधता एक समान पाई जाती है
(D) उच्च हिमालयी क्षेत्रों में विश्व की सर्वाधिक जैव विविधता है

115. इसरो (ISRO) के बारे में सही कथन/कथनों का चयन कीजिए -

- (1) इसरो द्वारा पहले भारतीय उपग्रह का निर्माण किया गया और इसे 1975 में यू.एस.ए. (USA) द्वारा प्रक्षेपित किया गया।
(2) एन्ट्रिक्स कॉर्पोरेशन इसरो की विपणन शाखा है।
(3) इसरो की मास्टर कंट्रोल फेसिलिटी, हासन में स्थित है।

- (A) 1, 2, 3 (B) 1, 3
(C) 2, 3 (D) 1, 2

116. दिए गए विकल्पों में से दी गई श्रृंखला में गलत संख्या ज्ञात कीजिए -

14, 39, 84, 155, 260

- (A) 84 (B) 260
(C) 155 (D) 39

117. Select the related letters to replace the '?' from the given options -

HJLN : SQOM :: DFHJ : ?

- (A) XRQS (B) XQSQ
(C) WUSQ (D) VRQS

118. The average age of a class of 40 students and a teacher reduces by 0.5 years, if we exclude the teacher. If the initial average age is 18 years, then what is the age of the teacher?

- (A) 41 years (B) 38 years
(C) 40 years (D) 39 years

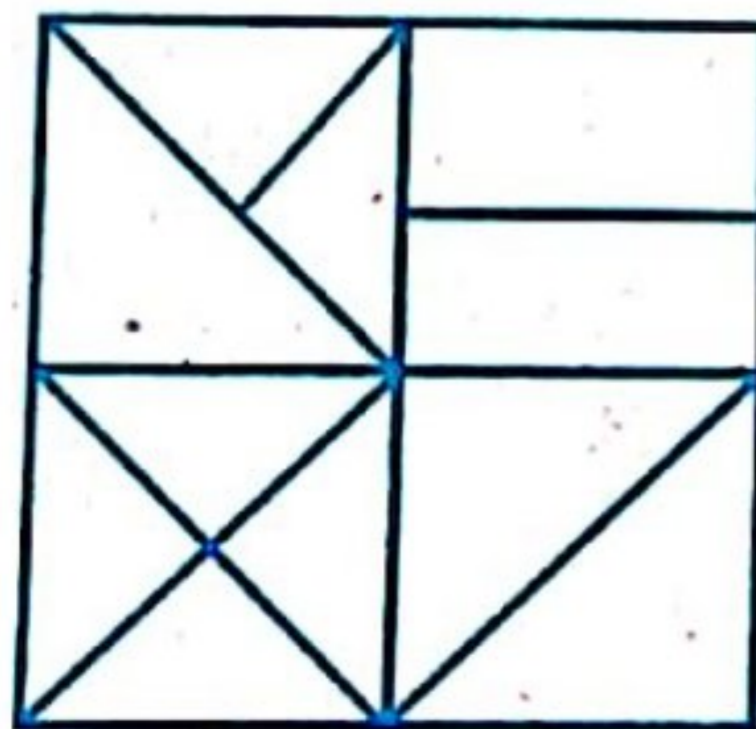
119. Rahul starts walking from point R, which is 16 m to the west of point T. From point R, he walks 20 m to the south, takes a right turn and walks for 10m. He then takes a right turn, walks for 6m and stops at point C. Gaurav starts walking from point A, which is 8 m to the south of point T. From point A, he walks 10m to the East, takes a right turn and walks for 6m. He then takes a right turn walks for 26m and stops at point B. What is the distance between point C and point B?

- (A) 25 m (B) 10 m
(C) 15 m (D) 12 m

120. In a row of 21 men when Manish was shifted by four places towards the right, now he becomes 12th from the left end. What was his earlier position from the right end of the row?

- (A) 10th (B) 12th
(C) 14th (D) 8th

121. How many triangles are there in the following figure?



- (A) 16 (B) 14
(C) 13 (D) 15

117. दिए गए विकल्पों में से '?' के स्थान पर संबंधित अक्षरों को चुनिए -

HJLN : SQOM :: DFHJ : ?

- (A) XRQS (B) XQSQ
(C) WUSQ (D) VRQS

118. यदि हम शिक्षक को छोड़ दें, तो 40 छात्रों और एक शिक्षक की कक्षा की औसत आयु 0.5 वर्ष कम हो जाती है। यदि प्रारंभिक औसत आयु 18 वर्ष है, तो शिक्षक की आयु क्या है?

- (A) 41 वर्ष (B) 38 वर्ष
(C) 40 वर्ष (D) 39 वर्ष

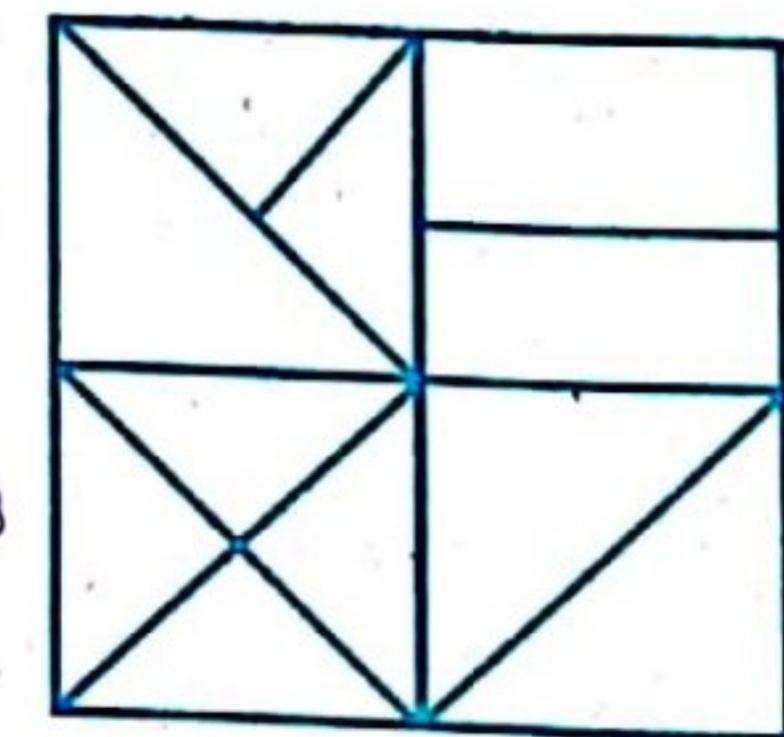
119. राहुल बिंदु R से चलना शुरू करता है, जो बिंदु T के पश्चिम में 16 मी. है। बिंदु R से, वह 20 मी. दक्षिण की ओर चलता है, दायें मुड़ता है और 10 मी. चलता है। फिर वह दायें मुड़ता है, 6 मी. चलता है और बिंदु C पर रुक जाता है। गौरव बिंदु A से चलना शुरू करता है, जो बिंदु T के 8 मी. दक्षिण में है। बिंदु A से, वह 10 मी. पूर्व की ओर चलता है, दायें मुड़ता है और 6 मी. चलता है। फिर वह दायें मुड़ता है और 26 मी. चलता है और बिंदु B पर रुक जाता है। बिंदु C और बिंदु B के बीच की दूरी कितनी है?

- (A) 25 मी. (B) 10 मी.
(C) 15 मी. (D) 12 मी.

120. 21 पुरुषों की एक पंक्ति में मनीष को दायीं ओर चार स्थान सरकाया गया। अब वह बायीं छोर से 12 वें स्थान पर है। पंक्ति में दायें छोर से उसका पूर्व में स्थान क्या था?

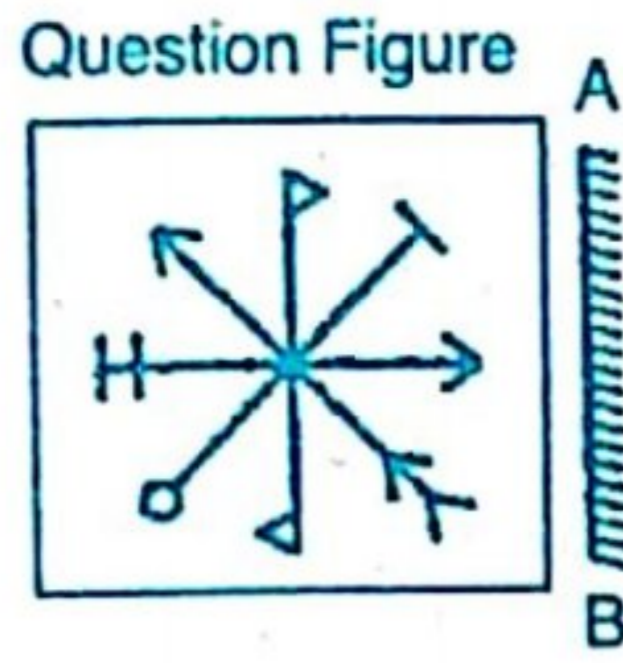
- (A) 10वीं (B) 12वीं
(C) 14वीं (D) 8वीं

121. निम्न चित्र में कितने त्रिभुज हैं?



- (A) 16 (B) 14
(C) 13 (D) 15

122. Choose correct mirror image of given question figure when mirror is placed on the line AB –



- (A)
- (B)
- (C)
- (D)

123. Two candidates fought an election. One of them got 65% of the total votes casted and won by 420 votes. What is the total number of votes polled if no vote is declared invalid?

- (A) 1200 (B) 1400
(C) 1300 (D) 1500

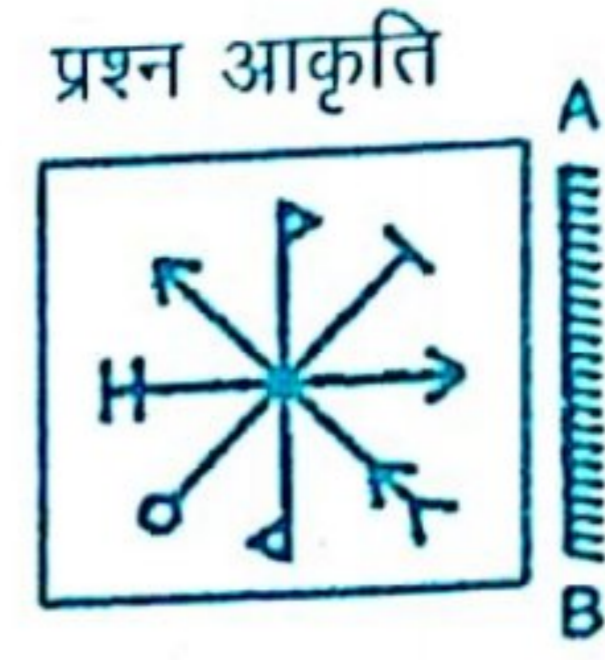
124. **Statement** – Quality has a price tag. India is allocating lots of funds to education.

Conclusion – I. Quality of education in India would improve soon.
II. Funding alone can enhance quality of education.

- (A) Only conclusion I follows
(B) Only conclusion II follows
(C) Neither I nor II follows
(D) Both I and II follows

1311065818 1311065818 1311065818 1311065818

122. दी गई प्रश्न आकृति का सही दर्पण प्रतिबिम्ब चुनें जब दर्पण को रेखा AB पर रखा जाए –



- (A)
- (B)
- (C)
- (D)

123. दो उम्मीदवारों ने एक चुनाव लड़ा। उनमें से एक ने कुल डाले गये मतों के 65% मत प्राप्त किये और 420 मतों से विजयी हो गया। यदि कोई मत अमान्य घोषित नहीं किया गया, तो डाले गए कुल मतों की संख्या क्या है?

- (A) 1200 (B) 1400
(C) 1300 (D) 1500

124. कथन – गुणवत्ता का एक मूल्य टैग होता है। भारत शिक्षा के लिए बहुत सारा धन आवंटित कर रहा है।

निष्कर्ष : I. भारत में शिक्षा की गुणवत्ता में जल्द ही सुधार होगा।
II. अकेले वित्त पोषण शिक्षा की गुणवत्ता को बढ़ा सकता है।

- (A) केवल निष्कर्ष I अनुसरण करता है
(B) केवल निष्कर्ष II अनुसरण करता है
(C) न तो I और ना ही II अनुसरण करता है
(D) I और II दोनों अनुसरण करते हैं

125. A is B's sister. C is B's mother. D is C's father. E is D's mother. How is A related to D?

- (A) Granddaughter (B) Daughter
(C) Grandmother (D) Grandfather

126. A shopkeeper gives rebate of 20% and 10% successively on print price of a chair. If cost of chair is ₹ 2,000, then how much amount will customer pay?

- (A) 1,400 (B) 1,440
(C) 1,600 (D) 1,500

127. If A's income is $\frac{3}{5}$ times of B's income and C's income is $\frac{6}{5}$ times of B's income then the ratio of C's income to A's income is -

- (A) 3:1 (B) 2:1
(C) 1:1 (D) 1:2

128. The difference between the simple interest and the compound interest on a certain amount at 5% for two years is ₹ 25, what is the amount?

- (A) ₹ 15,000 (B) ₹ 9000
(C) ₹ 10,000 (D) ₹ 8000

129. Which one of the following diagrams represents the relation between Tree, Teak, Salamander?



130. If TRIPPLE is coded as DMOQHSS in a code language, how is VICTORY coded in that language?

- (A) ZXPSDHW (B) UJBUNSX
(C) WHDSPQZ (D) XSNUBJU

125. A, B की बहन है। C, B की माता है। D, C का पिता है। E, D की माता है। A किस प्रकार D से संबंधित है?

- (A) पौत्री (B) पुत्री
(C) दादी (D) दादा

126. एक व्यापारी कुर्सी के अंकित मूल्य पर क्रमशः 20% एवं 10% की छूट देता है। यदि कुर्सी का मूल्य 2,000₹ है, तो ग्राहक को कितना मूल्य चुकाना पड़ेगा?

- (A) 1,400 (B) 1,440
(C) 1,600 (D) 1,500

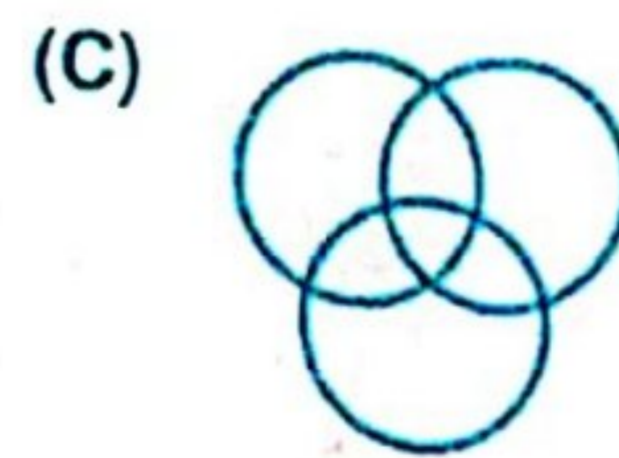
127. यदि A की आय, B की आय से $\frac{3}{5}$ गुना है तथा C की आय, B की आय से $\frac{6}{5}$ गुना है, तो C की आय का A की आय से अनुपात है -

- (A) 3:1 (B) 2:1
(C) 1:1 (D) 1:2

128. एक निश्चित राशि पर 5% की दर से दो वर्षों के लिए साधारण ब्याज और चक्रवृद्धि ब्याज के बीच का अंतर 25 ₹ है, राशि क्या है?

- (A) 15,000 ₹ (B) 9000 ₹
(C) 10,000 ₹ (D) 8000 ₹

129. निम्नलिखित में से कौन-सा आरेख पेड़, सागौन और सैलामेंडर के बीच संबंध का प्रतिनिधित्व करता है?



130. किसी सांकेतिक भाषा में यदि TRIPPLE का अर्थ DMOQHSS है, तो उसी भाषा में VICTORY का अर्थ क्या होगा?

- (A) ZXPSDHW (B) UJBUNSX
(C) WHDSPQZ (D) XSNUBJU

131. 'नाटक के अंत में प्रयुक्त मांगलिक पद', के लिए सार्थक शब्द है -
 (A) भरतवाक्य (B) मंगलवाक्य
 (C) विदूषक (D) व्याजवाक्य
132. किस विकल्प में 'Allocation' शब्द का हिन्दी पारिभाषिक शब्द सही है?
 (A) निष्ठा (B) समायोजन
 (C) संबंधन (D) नियतन
133. विलोम शब्द की दृष्टि से संगत विकल्प का चयन कीजिए -
 (A) आज्ञा-अवज्ञा, अधुना-नूतन, अस्ति-नास्ति (B) अधम-उत्तम, अज्ञ-विज्ञ, अग्र-पश्च
 (C) ग्राम-ग्राम्य, उदात्त-अनुदात्त, ऐश्वर्य-अनैश्वर्य (D) अधित्यका-उपत्यका, आगम-अनागत, अभ्र-अन्य
134. निम्न में से किस विकल्प के सभी शब्दों में उपसर्ग व प्रत्यय दोनों का प्रयोग हुआ है?
 (A) फेनिल, शामिल, जटिल (B) अवगत, अवलंब, अवसित
 (C) अवधि, अवज्ञा, अवधूत (D) विचारणीय, पारिवारिक, औत्पत्तिक
135. व्यंजन वर्णों के संबंध में कौन - सा विकल्प सुमेलित नहीं है?
 (A) श, ष - संघर्षहीन (B) ग, घ - स्पर्श व्यंजन
 (C) य, व - अर्धस्वर (D) च, छ - स्पर्श संघर्षी
136. असंगत विकल्प का चयन कीजिए -
 (A) पुलिस ने चोर पकड़वाया। - प्रेरणार्थक क्रिया
 (B) माता जी प्रतिदिन बाग में जाते हैं। - रंजक क्रिया
 (C) लड़के मैदान में दौड़ रहे हैं। - अकर्मक क्रिया
 (D) उसने सेब खाया। - सकर्मक क्रिया
137. निम्न में से कौनसा शब्द संज्ञा से निर्मित विशेषण नहीं है?
 (A) दानवीय (B) निंदित
 (C) चिंतन (D) मानवीय
138. किस विकल्प में तत्पुरुष समास का प्रयोग नहीं हुआ है?
 (A) अंधविश्वास (B) ख्यातिप्राप्त
 (C) शपथपत्र (D) सेवानिवृत्त
139. निम्न में से शुद्ध वाक्य का चयन कीजिए -
 (A) भाषा में धीरे-धीरे शब्द लोप हो जाते हैं। (B) उज्जैन में अनेक दर्शनीय स्थल देखने योग्य हैं।
 (C) उसने मेरे शब्दों पर ध्यान नहीं दिया। (D) उसे परमसत्ता पर विश्वास है।
140. अयादि स्वर संधि की दृष्टि से असुमेलित विकल्प का चयन कीजिए -
 (A) विनै + अक = विनायक (B) विधे + अक = विधायक
 (C) लो + इत्र = लवित्र (D) गो + एषणा = गवेषणा

Direction (141 to 143) : Read the given passage and answer the questions that follow –

Despite the frustrating years of dragging children out of bed and persuading them to go to school, young children have an internal drive to learn about their world, and become industrious and productive individuals. Their educational eagerness and curiosity can either be stifled or encouraged by parents, teachers and other adults. Aware parents can encourage their children's development of important life skills. Besides teaching them to read and write, school and home environments teach children cooperation and interdependence. Children also engage in important play rituals (like playing with dolls or cops and robbers) which prepare them for adolescence and adulthood. Supportive parents can promote crucial learning of life skills. Above all, school-age children struggle with feeling of inferiority and incompetence when they compare themselves with their peers. If they don't fit in, they might feel insignificant. Loving and accepting parents help these children develop the confidence to create a future where they can thrive and feel good about themselves.

141. Some games prepare the children for:

- (A) adolescence and adulthood (B) academics
(C) competition (D) good health

142. The antonym of the word 'curiosity' given in the passage is -

- (A) intrusiveness (B) apathy
(C) prying (D) inquisitiveness

143. The synonym of the word 'stifled' given in the passage is -

- (A) enhanced (B) suppressed
(C) inspired (D) amplified

144. Choose the correct option:

They made me laugh. (Change into passive voice)

- (A) I were made to laugh by them. (B) I was made to laugh.
(C) They made too laugh by me. (D) They were made to laugh by me.

145. Give one word substitute for

A large number of fish swimming together.

- (A) litter (B) troupe
(C) shoal (D) swarm



146. Choose the correct Hindi translation of the given sentence –

Mom, could you put my books inside the bag?

(A) माँ, क्या मेरी किताबें आप मेरे बैग में रख सकती हो?

(B) माँ, क्या आपने मेरी किताबें बैग में रख दी हैं?

(C) माँ, क्या मेरे बैग में मेरी किताबें आपने रख दी हैं?

(D) माँ, क्या आप मेरी किताबें बैग में रख सकती हो?

147. Which of the following is/are the correct statement/s regarding letter writing?

(I) 'Your's Faithfully' is used for ending a formal letter.

(II) The right sequence of writing a letter to the editor is - Sender's address, Receiver's address, Subject, Salutation, Body of letter, Subscription, Date.

(III) The right format of writing a date in all formal letters is '30th May, 2022' instead of '30/05/2022'.

(IV) 'Yours Truly' is used for ending an informal letter.

Code-

(A) Only I, III and IV are correct

(B) Only III is correct

(C) Only II, III and IV are correct

(D) Only III and IV are correct

148. Choose the meaning of the underlined phrase/Idiom –

I am going to stay at home because I am feeling under the weather today.

(A) depressed

(B) unhappy

(C) irritated

(D) sick

149. Fill in the blank spaces in the given sentence choosing correct answer from the given options –

" tiger is fierce wild animal".

(A) a, a

(B) the, a

(C) a, the

(D) the, the



150. Choose the correct answer from the given options –

The teacher said to the students, "Take back your books". (Change into indirect speech)

(A) The teacher asked the students to take back their books.

(B) The teacher asked the students to take back your books.

(C) The teacher told the students to take back books.

(D) The teacher ordered the students to take back your books.